

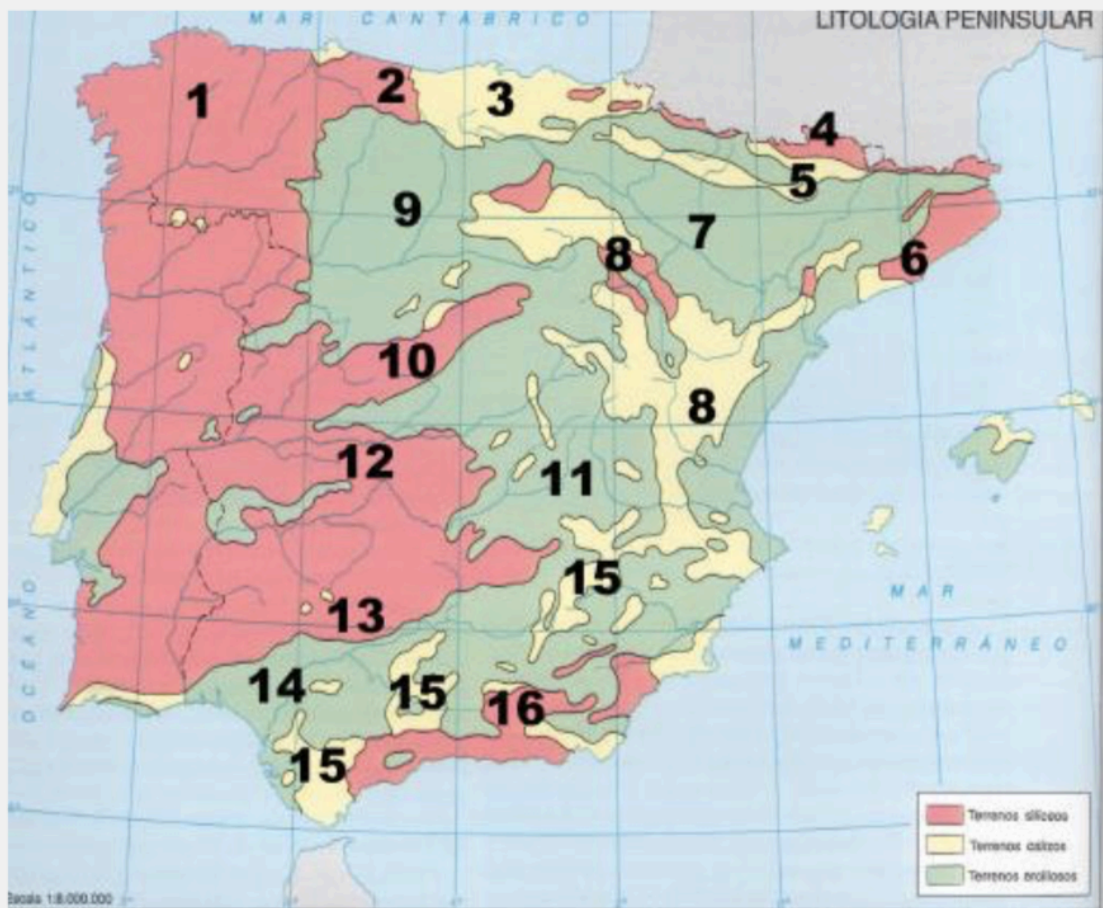
Prácticas – Geografía – Unidad 1, El relieve


PRÁCTICA 1

El mapa muestra las unidades litológicas de la Península Ibérica. Tras su observación, responda a las siguientes cuestiones:

- a) Enumere, por separado, con sus números y nombre: las unidades interiores de la Meseta; las periféricas de la Meseta; y las exteriores a la Meseta
- b) Qué Comunidades Autónomas tienen parte o todo su territorio asentado sobre la Iberia silíceo en el Oeste peninsular
- c) ¿Qué relación básica guarda cada una de estas tres Iberias con distintos usos y aprovechamientos del territorio?.

PRÁCTICA 1



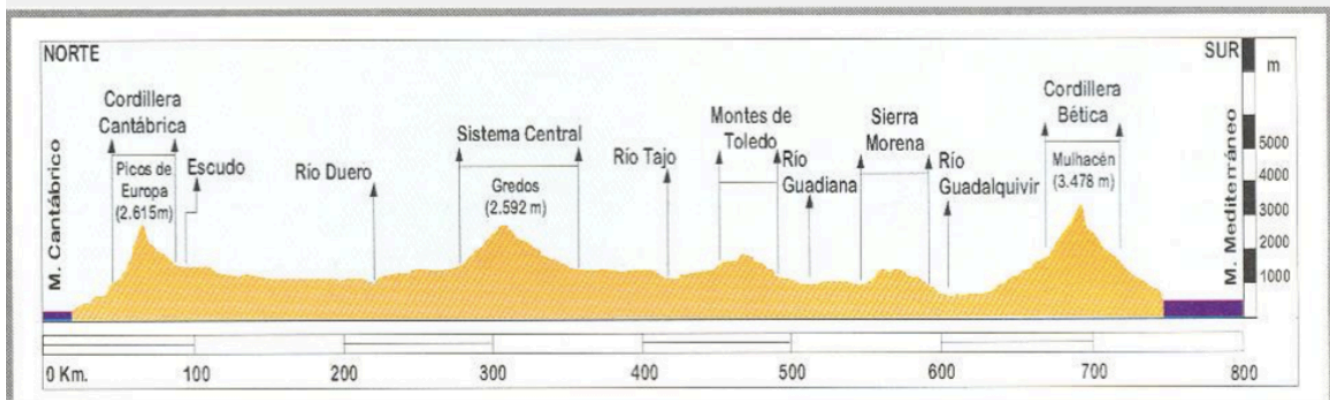


PRÁCTICA 2

En el gráfico se representa un perfil topográfico de la Península Ibérica desde Cantabria a Granada. Obsérvelo y conteste a las preguntas siguientes:

- Enumere, ordenados de Norte-Sur, la letra y nombre correspondiente de los sistemas de relieve que aparecen en el gráfico.
- Enumere, ordenados de Norte-Sur, el número y nombre correspondiente de los ríos que fluyen en los valles del gráfico.
- De los sistemas de relieve, diga, con letra y nombre, cuáles de ellos son: 1) interiores a la Meseta, 2) periféricos a la Meseta, y 3) exteriores a la Meseta. ¿Qué ríos de los que ha identificado desembocan en el océano Atlántico?.

PRÁCTICA 2



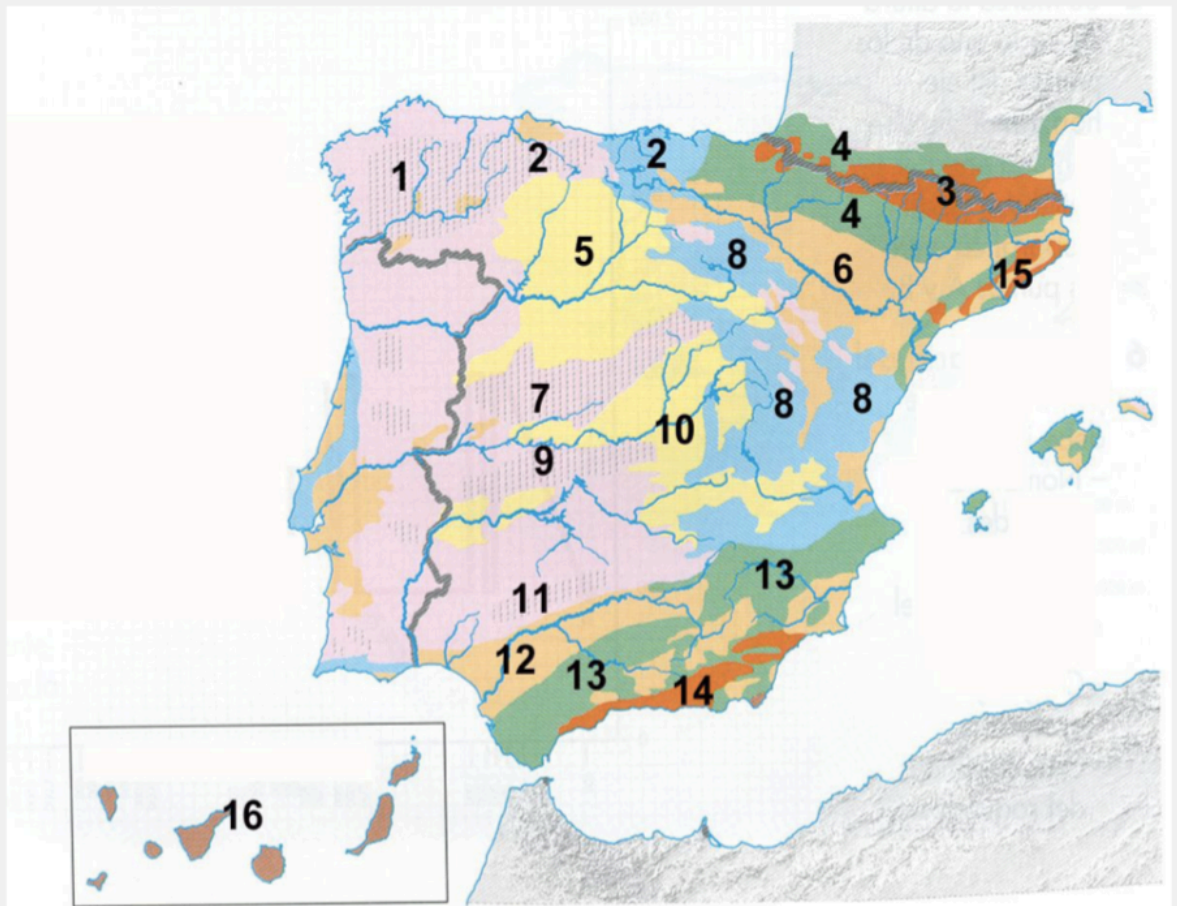


PRÁCTICA 3

El mapa representa las unidades morfoestructurales de España. Analízelo y responde a las siguientes preguntas:

- Relacione, con nombre y número, las unidades de relieve exteriores a la Meseta.
- Relacione, con nombre y número, las unidades de relieve interiores y periféricas de la Meseta.
- Partiendo de los tres principales tipos de roquedos de la Península, nómbralos y añádales los números que cada uno de ellos tiene superpuesto. ¿Qué rocas predominan en el 16?

PRÁCTICA 3





PRÁCTICA 4

En la figura siguiente se representa un mapa con las regiones costeras españolas. Analícelo y conteste a las siguientes preguntas:

- Diga cuáles son los accidentes geográficos señalados con sendas letras.
- Indique el nombre de cada una de las provincias costeras numeradas.
- Explique las características del tramo de relieve costero que se extiende en la provincia 4, y entre las provincias 8 y 9, así como la importancia turística y el nombre que recibe cada una de esas costas.

PRÁCTICA 4





PRÁCTICA 5

La siguiente figura corresponde al mapa físico de España. Obsérvelo y conteste a las preguntas siguientes:

- Identifique, con la letra y el nombre correspondientes, los sistemas de relieve que aparecen señalados con letras mayúsculas de la **A** a la **E**. Diga cómo se llama la isla marcada con la letra **X**, cómo se llama la montaña principal que hay en ella, así como su composición rocosa.
- Identifique, con el número y el nombre correspondientes, los ríos que aparecen numerados del 1 al 5. En general, ¿qué ríos son más largos, los de la vertiente atlántica o los de la vertiente mediterránea? Explique las causas.
- De los sistemas de relieve señalados, diga, con letra y nombre, cuáles de ellos son: 1) interiores a la Meseta; 2) periféricos a la Meseta, y 3) exteriores a la Meseta.

PRÁCTICA 5





PRÁCTICA 6

A continuación se presenta un mapa de altimetría de España. A partir del mismo responda a las siguientes cuestiones:

- Localice en el mapa las unidades de relieve señaladas numéricamente del 1 al 5.
- Identifique y describa las características de los relieves señalados con las letras A y B.
- Desarrolle las principales características de las unidades exteriores a la Meseta.

PRÁCTICA 6

