

PRÁCTICAS SECTOR I

**PRÁCTICA 1:
USOS AGRARIOS I**

**PRÁCTICA 2:
USOS AGRARIOS II**

**PRÁCTICA 3:
PAISAJES AGRARIOS**

**PRÁCTICA 4:
REGADÍO: DISTRIBUCIÓN**

**PRÁCTICA 5:
REGADÍO: PROPORCIÓN (%)**

**PRÁCTICA 6:
PROPIEDAD AGRARIA: DISTRIBUCIÓN I**

**PRÁCTICA 7:
PROPIEDAD AGRARIA: DISTRIBUCIÓN II**

PRÁCTICA 1 USOS AGRARIOS I




El mapa representa los usos del suelo agrario. Analízelo y conteste las cuestiones siguientes:

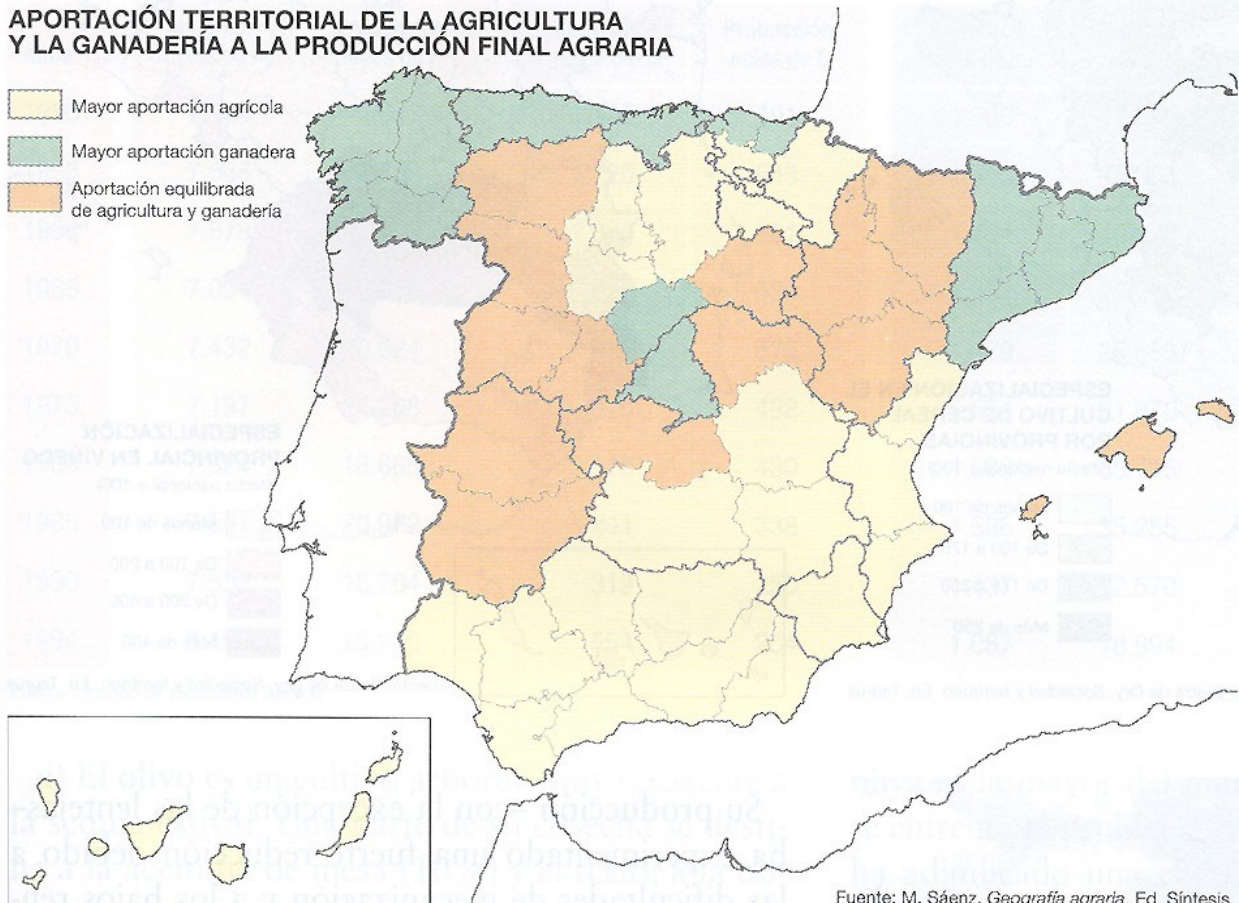
- Nombre todas las provincias que tienen una *aportación equilibrada de agricultura y ganadería*
- ¿Qué relaciones pueden existir entre cada uno de estos usos y las condiciones naturales de España?
- Elementos predominantes en los paisajes de las áreas con mayor aportación agrícola y elementos predominantes en los paisajes de las áreas con mayor aportación ganadera. Enumérelos y distíngalos.

(Valoración: hasta 4 puntos)

LOS USOS DEL SUELO AGRARIO

APORTACIÓN TERRITORIAL DE LA AGRICULTURA Y LA GANADERÍA A LA PRODUCCIÓN FINAL AGRARIA

-  Mayor aportación agrícola
-  Mayor aportación ganadera
-  Aportación equilibrada de agricultura y ganadería



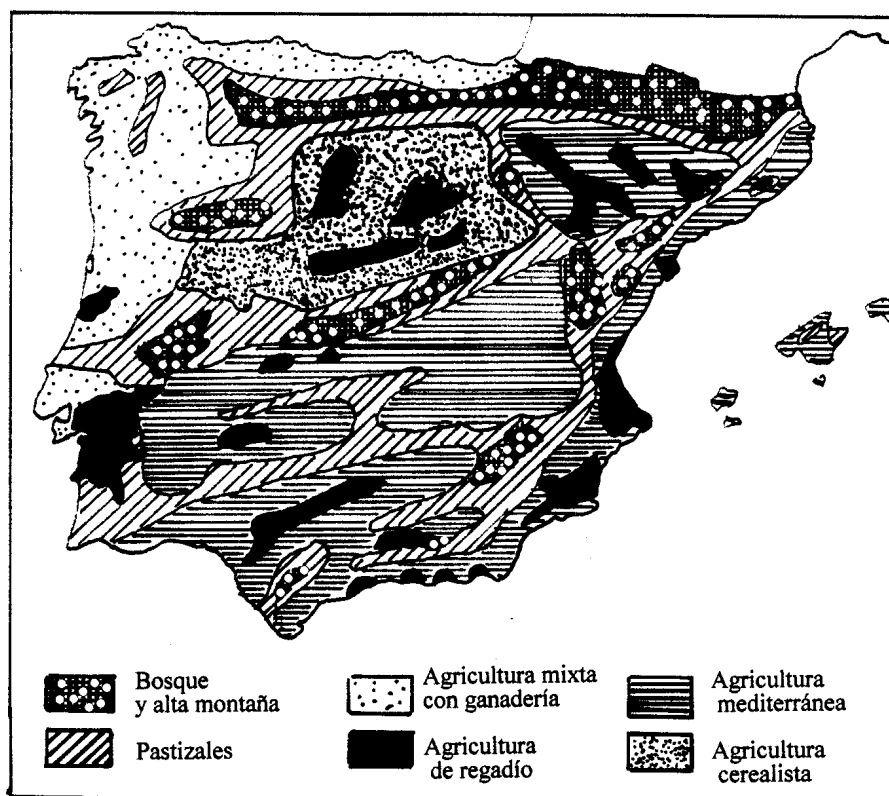
Fuente: M. Sáenz. *Geografía agraria*. Ed. Síntesis.

PRÁCTICA 2 USOS AGRARIOS II

El mapa representa la distribución de los diferentes tipos de usos y aprovechamientos agrarios en la P. Ibérica y Baleares. Analízelo y responda a las siguientes preguntas:

- Diga el nombre de las Comunidades Autónomas donde se localiza la *agricultura mixta con ganadería*. Explique algunas causas.
- Explique qué relación existe entre la localización de los *bosques* y *los pastizales* y las unidades de relieve peninsular. ¿Cómo se deduce dicha relación de la información del mapa.
- Deduzca de la información del mapa las posibles causas que explican la localización de la *agricultura de regadío* en la Península Ibérica.

(Valoración: hasta 4 puntos)



PRÁCTICA 3

PAISAJES AGRARIOS

El mapa representa la distribución de los diferentes paisajes agrarios de España. Analízelo y responda a las siguientes preguntas:

- Diga el nombre de las Comunidades Autónomas donde se localizan los paisajes agrarios de la *España húmeda (ganadera y forestal)*. Explique algunas causas.
- Explique los factores geográficos que condicionan la localización de los paisajes de la *España mediterránea cálida*.
- Deduzca de la información del mapa los cultivos dominantes que se producen en el interior peninsular.

(Valoración: hasta 4 puntos)



PRÁCTICA 4

REGADÍO: DISTRIBUCIÓN

En el mapa siguiente se representa la distribución de las áreas de regadío. Con esta información conteste a las preguntas siguientes:

- Diga del 1 al 7 el nombre de las Comunidades Autónomas señaladas, afectadas por el máximo regadío.
- Deduzca de la información del mapa las posibles causas que explican la localización de la agricultura de regadío en la Península Ibérica.
- Enumere los cultivos predominantes en las tierras de regadío de España.
- ¿Qué área es la más densamente ocupada por los regadíos? ¿Cómo son sus temperaturas y precipitaciones?
- Relaciona este mapa con el problema del agua en la actualidad en España.

(Valoración: Hasta 4 puntos)



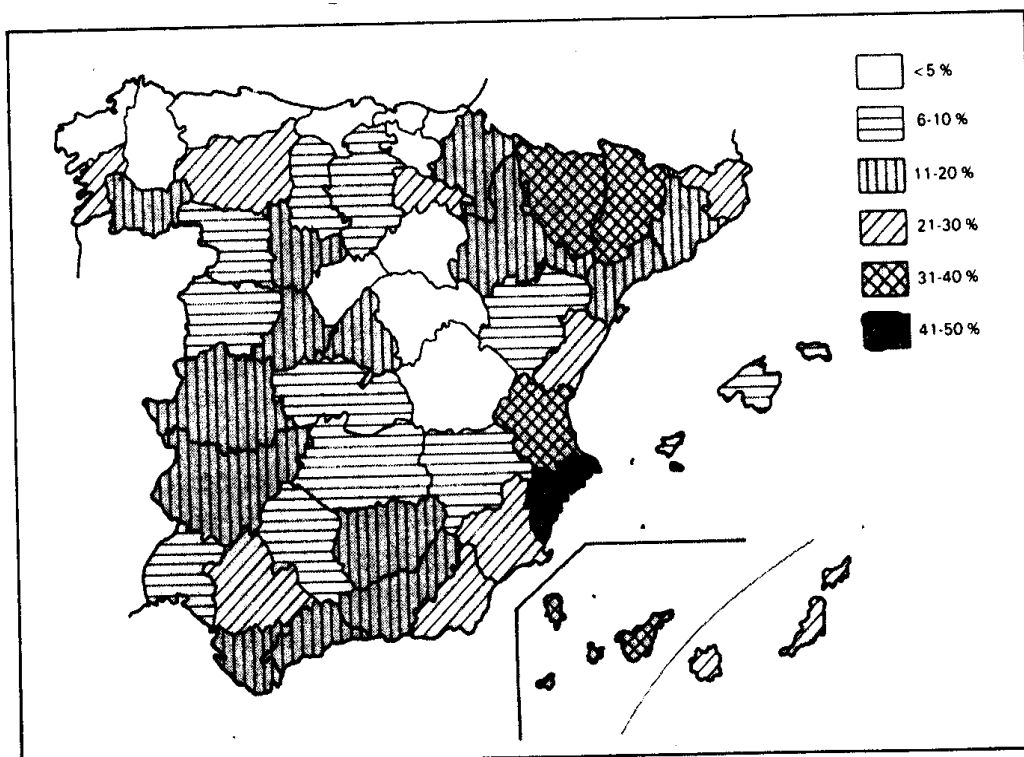
PRÁCTICA 5

REGADÍO: PROPORCIÓN (%)

En el mapa siguiente se representa la proporción de regadío (%) en relación con la superficie labrada, en cada una de las provincias españolas. Con esta información conteste a las preguntas siguientes:

- Cuáles son las provincias que tienen una proporción de regadío superior al 30%.
- Hay dos grupos de provincias que tienen en regadío menos del 5% de sus tierras labradas. Diga cuáles son esos dos grupos y las causas que explicarían la existencia de uno y otro.
- Enumere los cultivos predominantes en las tierras de regadío de España.

(Valoración: hasta 4 puntos)



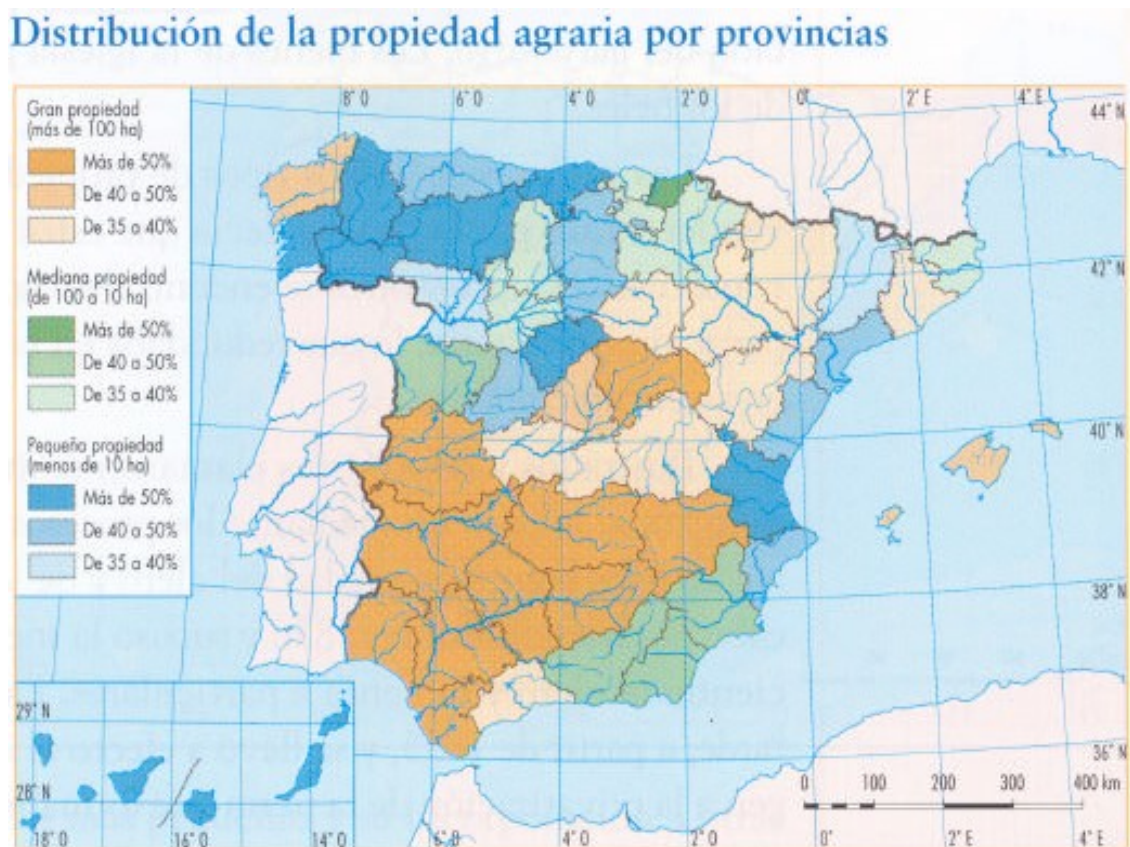
PRÁCTICA 6

PROPIEDAD AGRARIA: DISTRIBUCIÓN I

En el mapa se representa la distribución de la propiedad agraria por provincias. Conteste a las siguientes preguntas:

- ¿En qué provincias la pequeña propiedad supone más del 50% del total de la propiedad agraria? ¿Son sinónimos "pequeña propiedad" y "minifundio"?. Si no lo fuesen cuáles serían las diferencias.
- ¿En qué provincias la gran propiedad supone más del 50% del total de la propiedad agraria? ¿Son sinónimos "gran propiedad" y "latifundio"?. Si no lo fuesen cuáles serían las diferencias.
- Explique las causas de las que deriva esta distribución y las consecuencias principales que se han derivado de ella

(Valoración: hasta 4 puntos)



PRÁCTICA 7

PROPIEDAD AGRARIA: DISTRIBUCIÓN II

En el mapa se representa la distribución de la propiedad agraria por provincias. Conteste a las siguientes preguntas.

- ¿En qué provincias la gran propiedad o latifundio supone más del 50% del total de la propiedad agraria?
- ¿En qué provincias la pequeña propiedad o minifundio supone más del 50% del total de la propiedad agraria?
- Explica las causas que han provocado dicha distribución y las consecuencias que se han derivado de ellas

(Valoración: Hasta 4 puntos)

