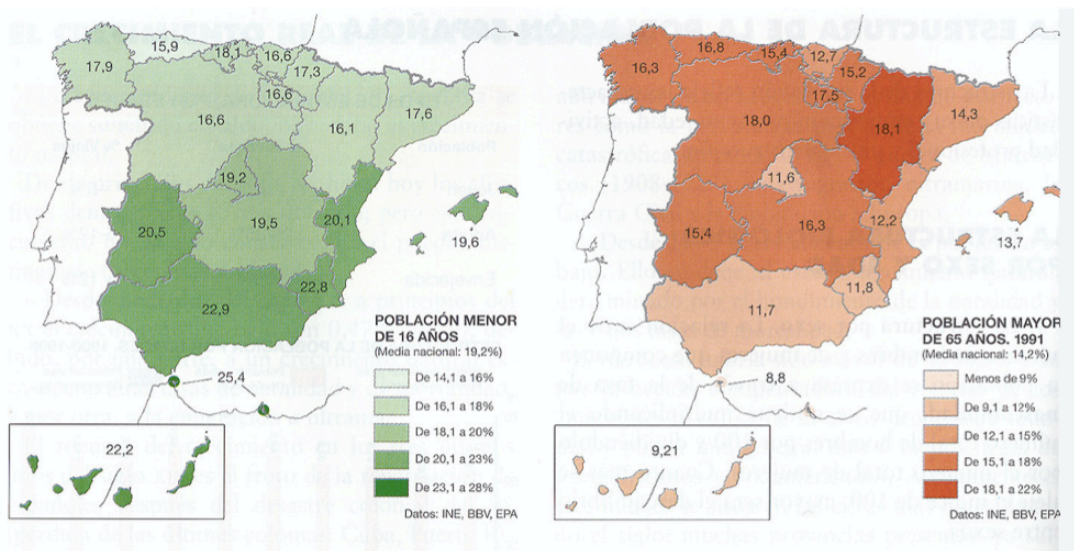


PRÁCTICAS TEMA 6 POBLACIÓN

1

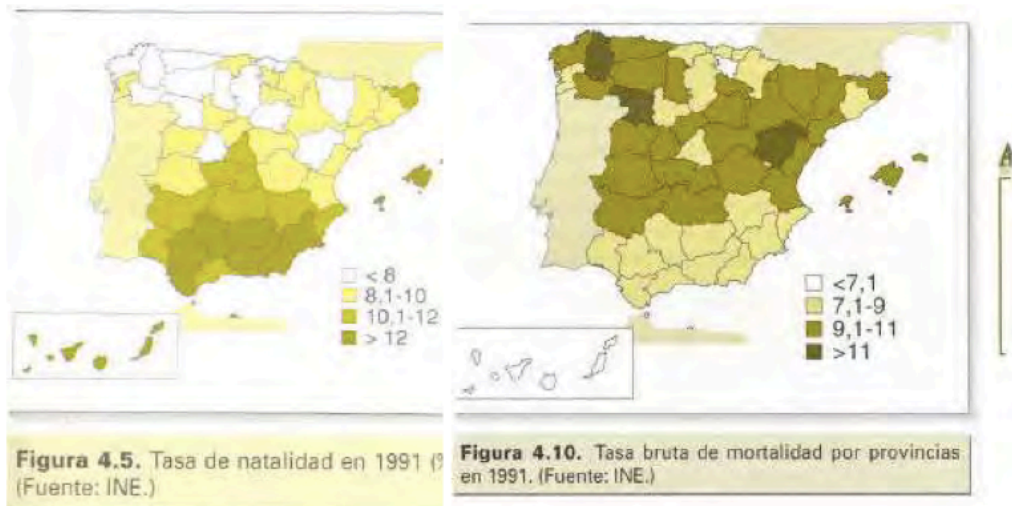
Los mapas representan la estructura de la población menor de 16 años y mayor de 65 años en 1991. Analice los mapas y responda a las siguientes preguntas:

1. Nombre todas las Comunidades Autónomas que tienen una “población menor de 16 años” superior al 20%, y las que tienen una “población mayor de 65 años” superior al 15%.
2. Señale las causas de esta distribución estructural y territorial de la población española.
3. ¿Qué consecuencias tiene esta estructura en la sociedad y en la economía de las regiones afectadas por uno u otro caso?



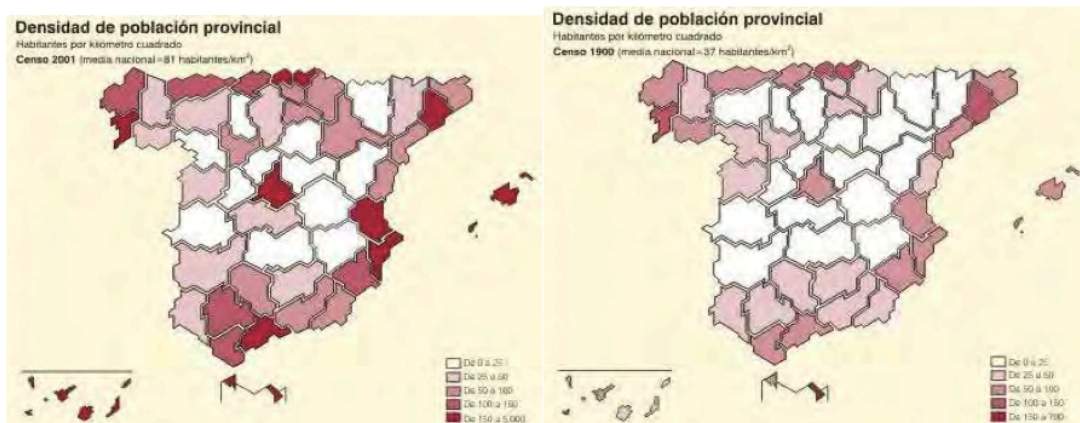
En la figura siguiente se pueden ver dos mapas que representan la distribución provincial de las tasas de natalidad y mortalidad brutas, en tantos por mil, en España, correspondientes al año 1991. Analícelos y conteste a las siguientes preguntas:

- Diga el nombre de las provincias que tienen tasas de natalidad superiores al 12 ‰ y de las provincias que tienen tasas de mortalidad superiores al 11 ‰
- Diga qué Comunidad Autónoma tendrá mayor crecimiento natural de población: ¿Galicia o Andalucía?
- Explique las posibles causas de esta situación.



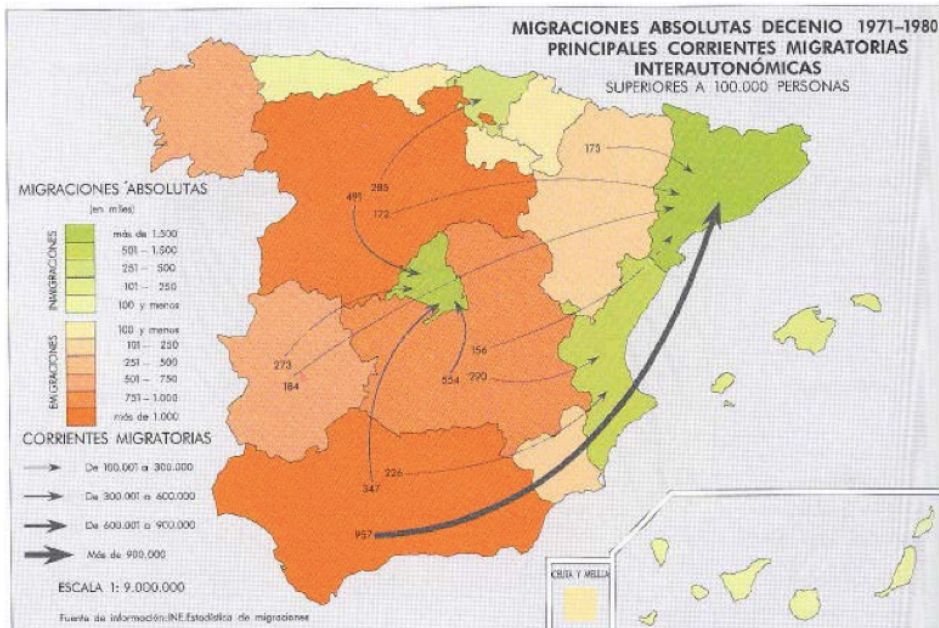
En la figura siguiente se representan los mapas de densidades provinciales de población correspondientes a 1900 y 2001. Analícelos y responda a las siguientes preguntas:

- Identifique las provincias que, teniendo en 1900 una densidad de población menor de 25 habitantes/km², han aumentado su densidad hasta tener valores superiores a 25 habitantes/km². en el año 2001.
- Identifique las provincias que presentan los valores de más de 150 habitantes/km² en el año 2001.
- Explique las causas que han contribuido al reparto de la población observado en 2001



4.- **Analice el mapa de migraciones interiores** en 1971-80 y responda a las siguientes cuestiones:

- En la década de 1971-80 ¿qué Comunidades Autónomas tienen valores emigratorios superiores a 101.000 personas?, ¿cuáles tienen valores inmigratorios superiores a 101.000 personas?
- Explique las causas principales por las que se producen los resultados que muestra el mapa.
- ¿Cambia sustancialmente la situación desde la década representada hasta la actualidad?.



2. Los siguientes mapas representan el porcentaje de extranjeros con respecto al total de población de cada provincia española en dos años diferentes. Analícelos y conteste a las siguientes preguntas:

- ¿Qué provincias tienen más de un 8% de extranjeros en ambos años? (Hasta 1 punto)
 - ¿A qué se debe el cambio entre ambas fechas en esas provincias? (Hasta 1,5 puntos)
 - Razone las consecuencias demográficas y sociales de la inmigración en España. (Hasta 1,5 puntos)
- (Valoración: Hasta 4 puntos)

Porcentaje de inmigrantes extranjeros sobre la población total

