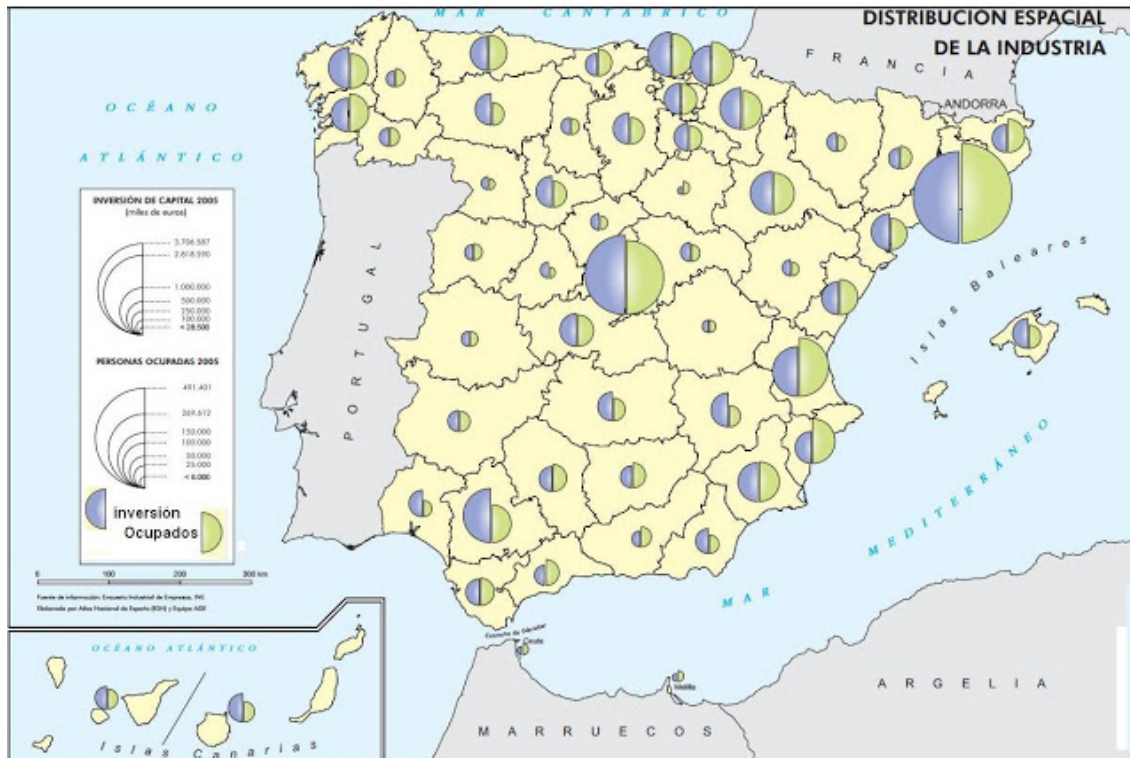


PRÁCTICA 1

El mapa representa la distribución espacial de la industria en España en 2005 a través de la inversión y el empleo. Analícelo y responda las preguntas que se plantean.

- Localice en el mapa y señale el nombre de las seis provincias con mayor población ocupada en la industria, citando las Comunidades Autónomas a las que pertenece cada una.
- Describa, a partir de la información contenida en el mapa, la situación industrial en Andalucía.
- A la vista del mapa comente los factores que determinan la distribución espacial de la industria en España.

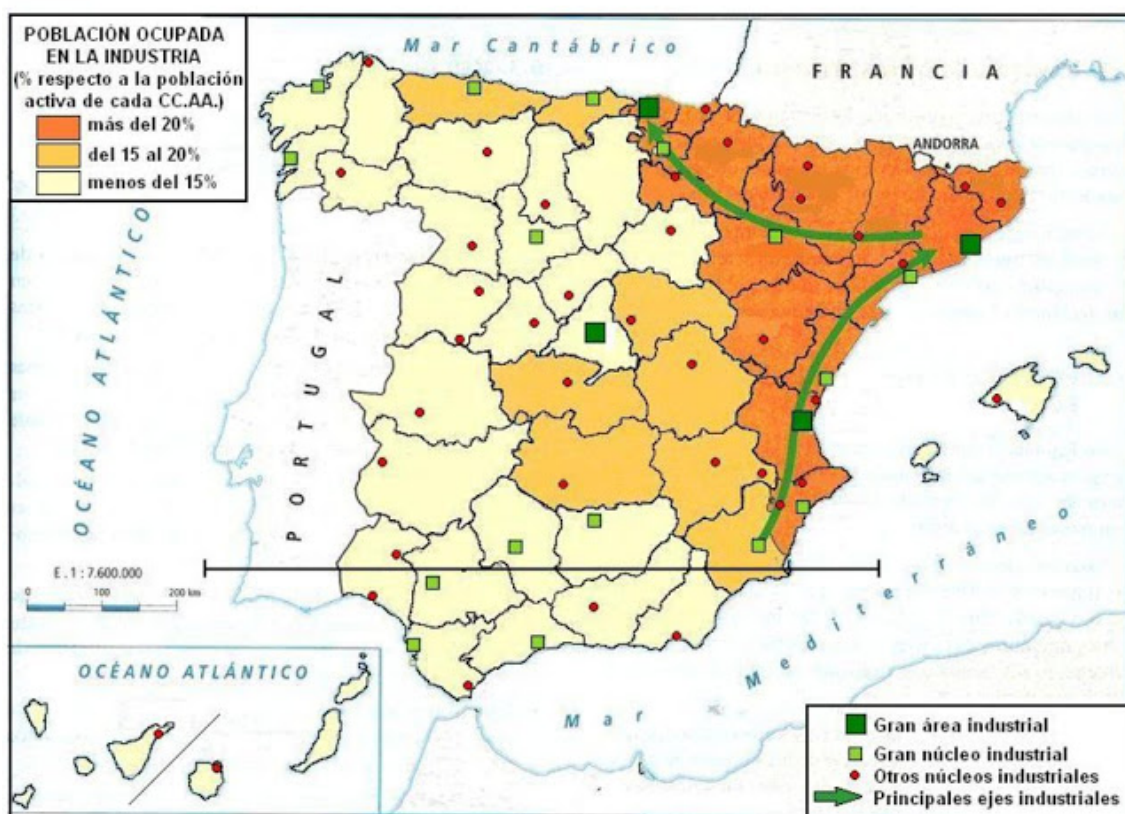


PRÁCTICA 2

El mapa representa la localización industrial en España y su importancia en relación con la presencia de zonas industriales y la ocupación en el sector. Analícelo y responda a las siguientes preguntas:

- Mencione, señalando la Comunidad autónoma a la que pertenecen –si no son uniprovinciales- las provincias españolas que poseen un gran núcleo industrial.
- Señale las principales razones que explican la distribución espacial de la industria en España y comente las líneas generales de su distribución en la actualidad.
- Comente la importancia del sector industrial en relación con el empleo y su evolución.

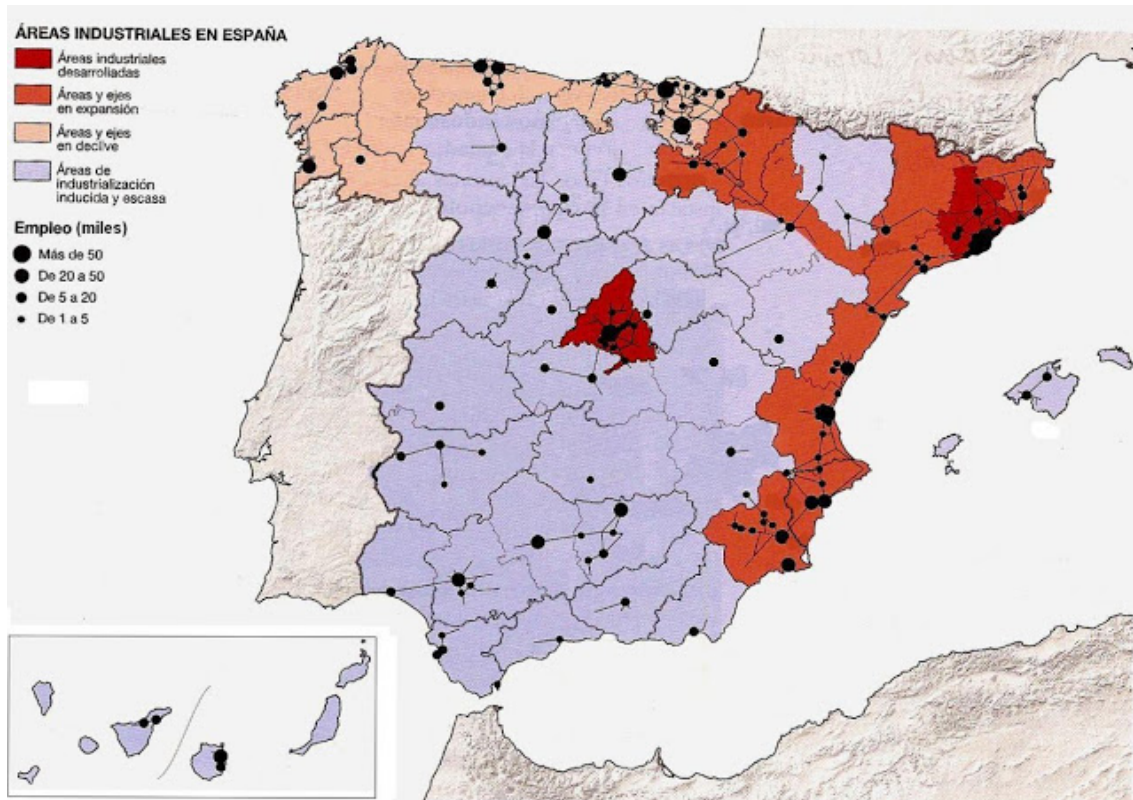
LOCALIZACIÓN DE LA INDUSTRIA ESPAÑOLA



PRÁCTICA 3

El mapa representa la distribución de la industria y el empleo industrial en España. Analícelo y responda a las preguntas que se plantean.

- Identifica cuales son los principales focos industriales de España.
- Identifica los principales ejes de desarrollo industrial en España.
- Identifica cuales son las áreas industriales en declive
- Explica cuales son los factores que condicionan esta distribución de los espacios industriales.



PRÁCTICA 4

El siguiente mapa representa la estructura de la industria española y el espacio industrial. Analícelo y responda a las preguntas que se plantean.

- Comente razonadamente la situación de los grandes polos industriales y su área de influencia.
- Describa los ejes de expansión industrial visibles en el mapa y sus condicionantes geográficos.
- ¿A qué provincias afecta el área de declive industrial y cuáles han sido sus causas?



PRÁCTICA 5

El mapa representa la estructura espacial y la densidad industrial en España en 1975. Analícelo y responda a las preguntas que sobre él se plantean.

- Diga el nombre de las Comunidades Autónomas que tienen más de 16 trabajadores/Km² y, de cada una, las provincias que la integran.
- Explique los contrastes industriales existentes entre el centro y la periferia españoles.
- Explique los principales rasgos de la distribución espacial de la industria en España.

